





柏立基教育學院校友會
何壽基學校

數學科課堂活動工作紙







姓名：_____ ()





班別： P.3 ()

積分： _____

現在沒有圖卡可以換，那麼你可以用什麼方法來找出容器（ / ）*的容量較大？你可以在下圖中繪畫或寫出你的方法。（*圈出適當的答案）

盛滿水的  可注滿      。

盛滿水的  可注滿      。

盛滿水的  可注滿    。