

# Toepassingen bepaalde integralen

www.karelappeltans.be

April 9, 2024

## Contents

<b>1</b>	<b>Oppervlakteberekening</b>	<b>2</b>
<b>2</b>	<b>Lengteberekening</b>	<b>5</b>
<b>3</b>	<b>Inhoudsberekening bij omwentelingslichamen</b>	<b>5</b>
<b>4</b>	<b>Differentiaalvergelijkingen</b>	<b>7</b>
4.1	Scheiding der veranderlijken . . . . .	7
4.2	Groeimodellen . . . . .	8
<b>5</b>	<b>Toepassingen uit de economie</b>	<b>9</b>
5.1	consumenten en producentensurplus . . . . .	9
<b>6</b>	<b>Toepassingen uit de wetenschappen</b>	<b>9</b>
6.1	positie-snelheid-versnelling . . . . .	9
6.2	Chemische reactie . . . . .	9
<b>7</b>	<b>Oneigenlijke integralen</b>	<b>10</b>
<b>8</b>	<b>Oefeningen</b>	<b>10</b>
8.1	Oppervlakteberekening . . . . .	10
8.2	Lengteberekening . . . . .	11
8.3	Inhoudsberekening . . . . .	12
8.4	Differentiaalvergelijkingen . . . . .	12
8.5	Toepassingen uit de economie . . . . .	12
8.6	toepassingen uit de wetenschappen . . . . .	13
8.7	Oneigenlijke integralen . . . . .	14

# 1 Oppervlakteberekening

Voorbeeld 1:

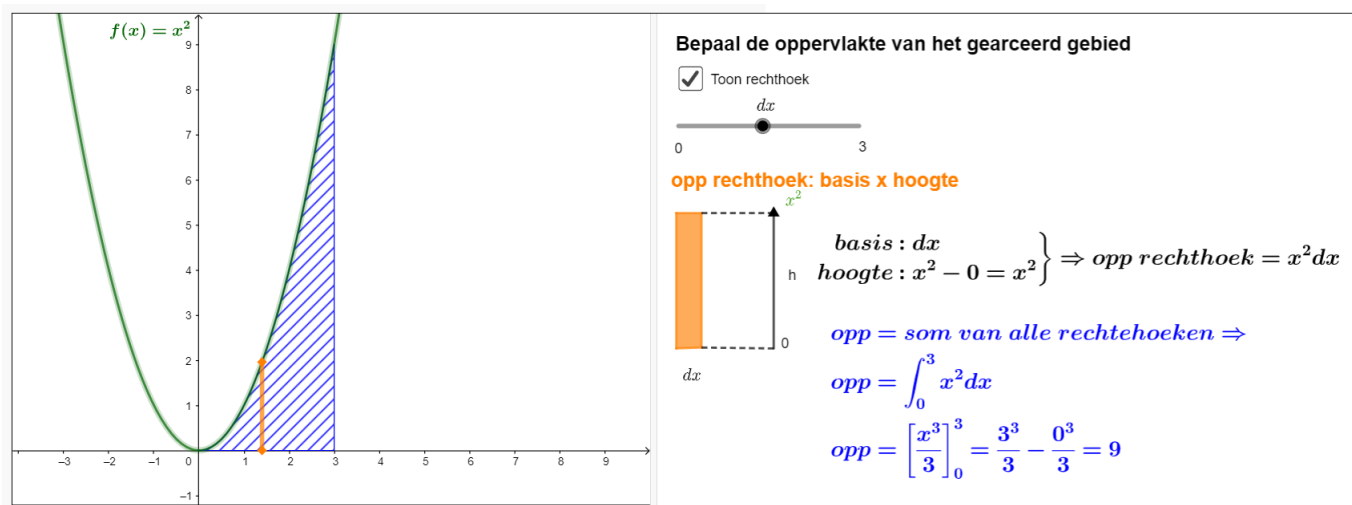


Figure 1: <https://www.geogebra.org/m/QXvv6bTK>

Voorbeeld 2:

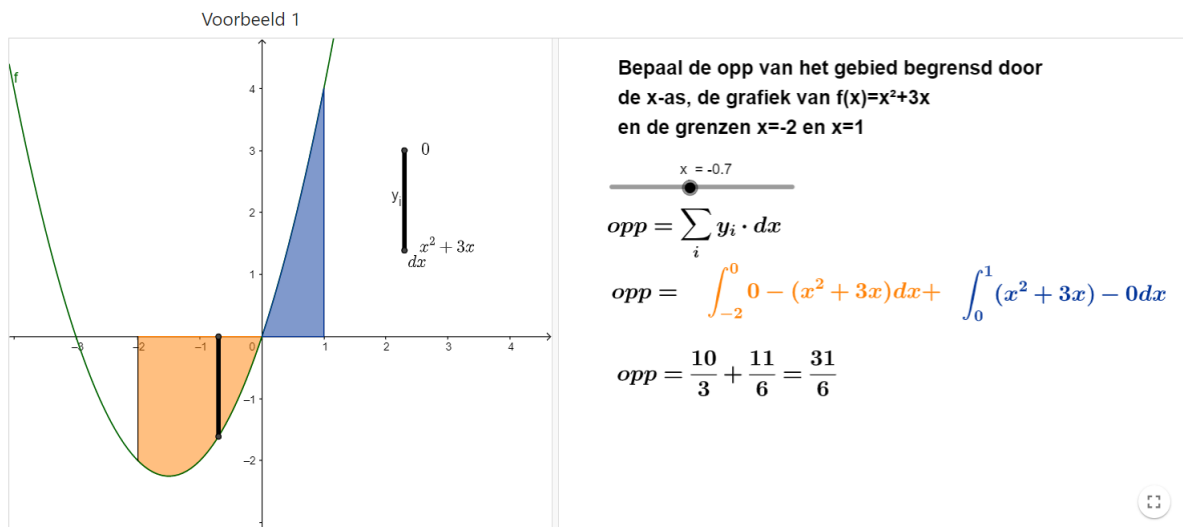


Figure 2: <https://www.geogebra.org/m/QXvv6bTK>

Voorbeeld 3:

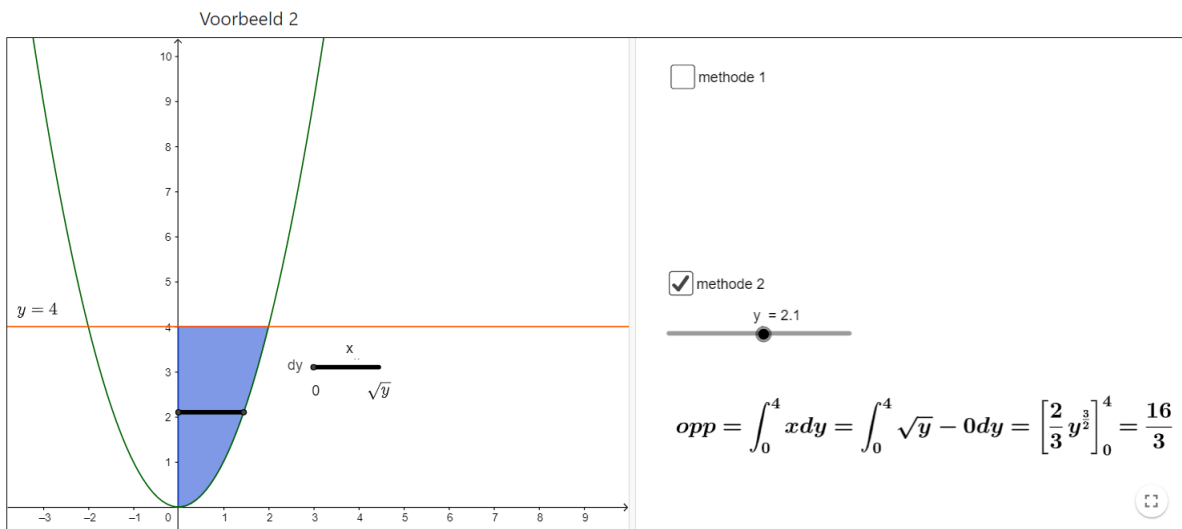
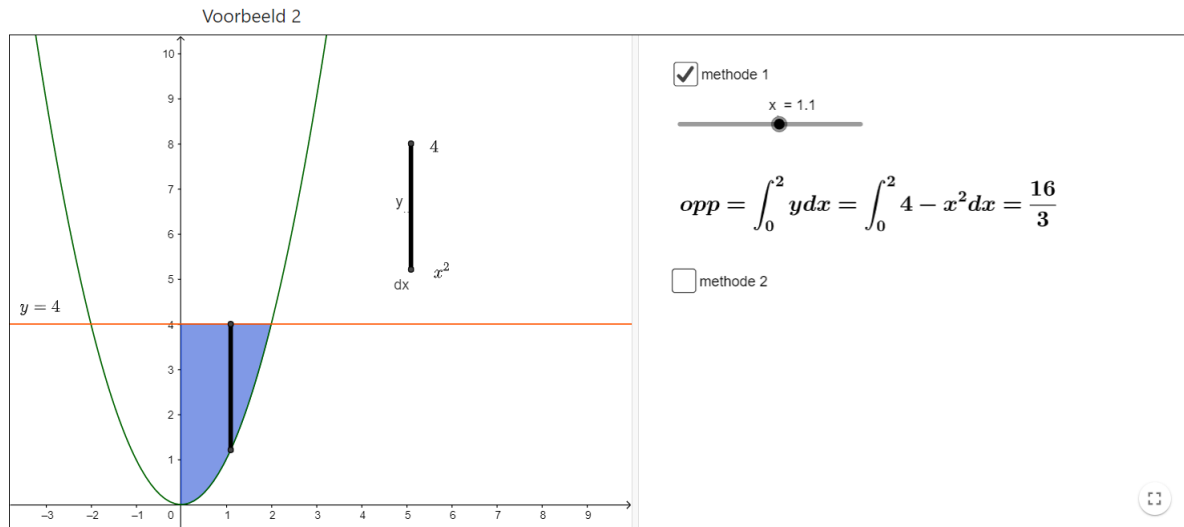
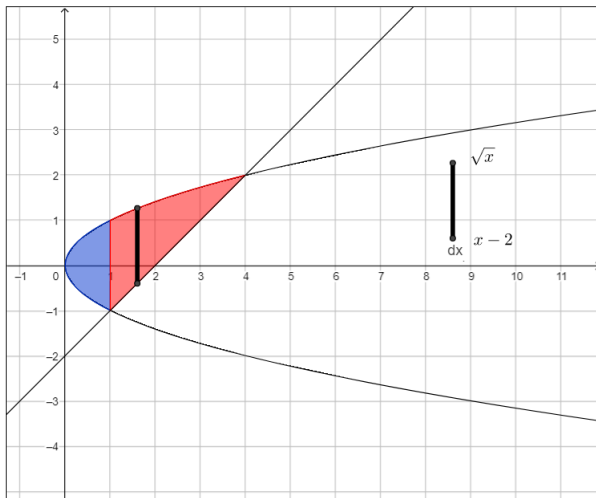


Figure 3: <https://www.geogebra.org/m/QXvv6bTK>

Voorbeeld 4:

Voorbeeld 3



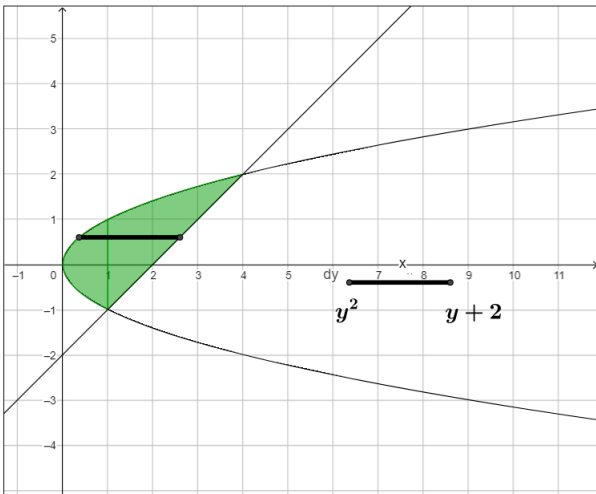
rechte :  $x - y = 2$  en kromme  $y^2 = x$

methode 1

$x = 1.6$

$$\begin{aligned} opp &= \int_0^4 y dx = \int_0^1 \sqrt{x} - (-\sqrt{x}) dx + \int_1^4 \sqrt{x} - (x - 2) dx \\ &= \frac{4}{3} + \frac{19}{6} = \frac{9}{2} \end{aligned}$$

methode 2



rechte :  $x - y = 2$  en kromme  $y^2 = x$

methode 1

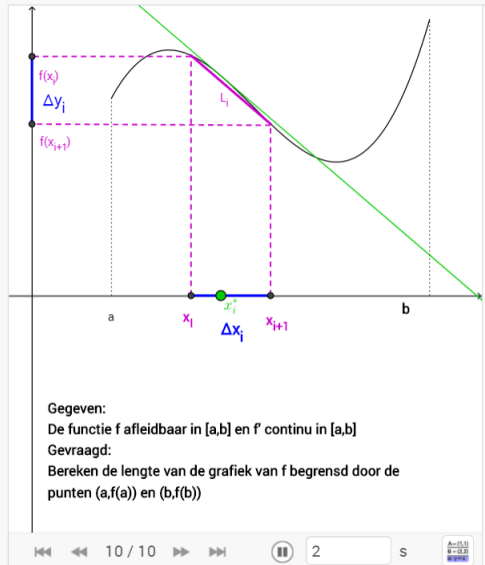
methode 2

$y_3 = 0.6$

$$opp = \int_{-1}^2 x dy = \int_{-1}^2 (y + 2) - y^2 dy = \frac{9}{2}$$

Figure 4: <https://www.geogebra.org/m/QXvv6bTK>

## 2 Lengteberekening



**Gegeven:**  
De functie  $f$  afleidbaar in  $[a,b]$  en  $f'$  continu in  $[a,b]$   
**Gevraagd:**  
Bereken de lengte van de grafiek van  $f$  begrensd door de punten  $(a,f(a))$  en  $(b,f(b))$

**Oplossing:**  
We verdelen  $[a,b]$  in  $n$  deeltintervallen (met  $n$  groot).  
In elk deeltinterval  $[x_i, x_{i+1}]$  kunnen we de grafiek van  $f$  benaderen door het lijnstuk  $L_i$  met lengte:

$$|L_i| = \sqrt{(x_{i+1} - x_i)^2 + (f(x_{i+1}) - f(x_i))^2} = \sqrt{\Delta x_i^2 + \Delta y_i^2}$$

Door de middelwaardstelling van Lagrange weten we dat in het interval  $[x_i, x_{i+1}]$  er een punt  $x_i^*$  is zodat

$$f(x_{i+1}) - f(x_i) = f'(x_i^*) (x_{i+1} - x_i)$$

$$\Delta y_i = f'(x_i^*) \Delta x_i$$

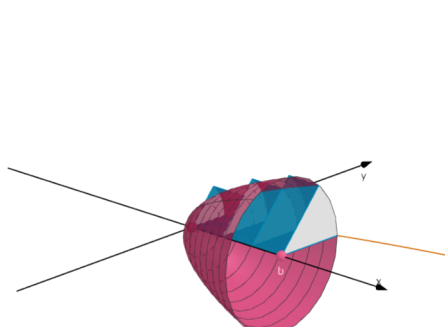
$$|L_i| = \sqrt{\Delta x_i^2 + [f'(x_i^*) \Delta x_i]^2} = \sqrt{1 + [f'(x_i^*)]^2} \Delta x_i$$

$$L \approx \sum_{i=1}^n \sqrt{1 + f'(x_i^*)^2} \cdot \Delta x_i$$

$$L = \lim_{n \rightarrow \infty} \sum_{i=1}^n \sqrt{1 + f'(x_i^*)^2} \cdot \Delta x_i \quad L = \int_a^b \sqrt{1 + f'(x)^2} dx \quad \text{of } L = \int_a^b \sqrt{1 + \left(\frac{dy}{dx}\right)^2} dx$$

Figure 5: <https://www.geogebra.org/m/C4h9qQaq>

## 3 Inhoudsberekening bij omwentelingslichamen



$f(x) = 2\sqrt{x}$       $f(x) = 2\sqrt{x}$

roteer grafiek tussen  $a = 0$       Toon rechthoeken  
 $b = 9$       $n = 3$      roteer rechthoeken

Aflleiding formule Zet het aantal rechthoeken (n) op 1     vulling rechthoeken vulling cilinders

*Inhoud cilinder = opp grondvlak · hoogte*  
*oppervlakte grondvlak :  $\pi \cdot f(x_1)^2$*   
*hoogte :  $\Delta x_1$*   
 $\Rightarrow \pi \cdot f(x_1)^2 \cdot \Delta x_1$

$\Rightarrow$  Volume n cilinders :  $\sum_{i=1}^n \pi \cdot f(x_i)^2 \Delta x_i$

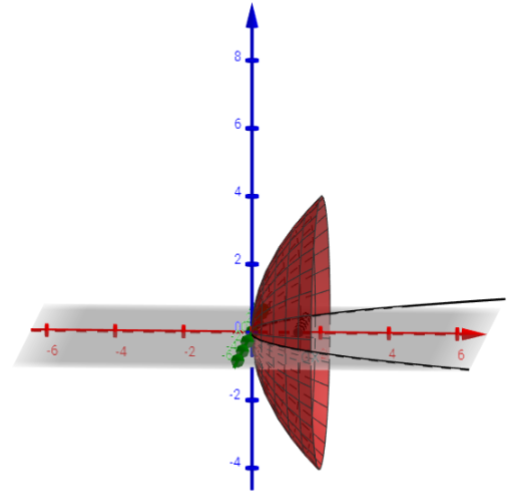
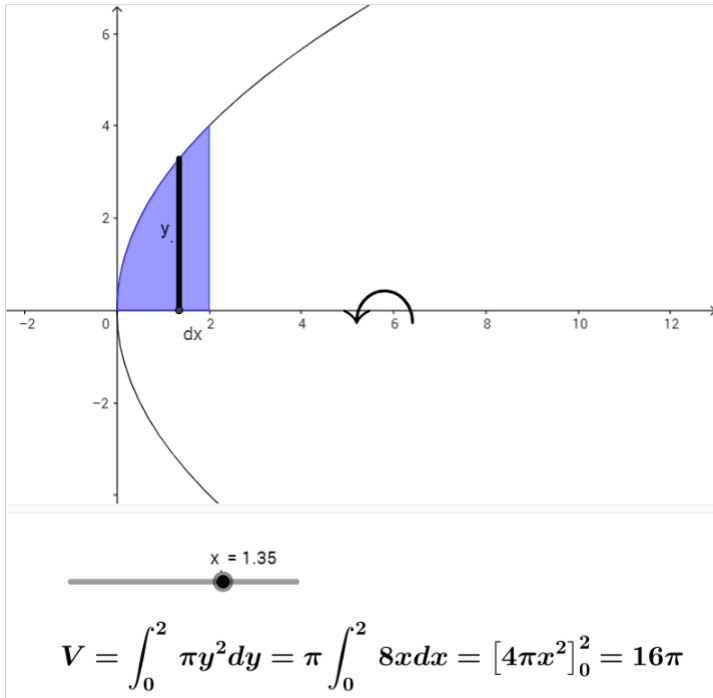
$\Rightarrow$  Volume omwentelingslichaam :

$$V = \lim_{n \rightarrow \infty} \sum_{i=1}^n \pi \cdot f(x_i)^2 \Delta x_i$$

$$V = \pi \int_a^b f(x)^2 dx$$

Figure 6: <https://www.geogebra.org/m/b5DqDWuM>

1. Bepaal het volume dat bekomen wordt door het vlakdeel in het eerste kwadrant begrensd door  $y^2 = 8x$  en  $x = 2$  te wentelen rond de x-as



2. Bepaal het volume dat bekomen wordt door het vlakdeel begrensd door  $y^2 = 8x$  en  $x = 2$  te wentelen rond de rechte  $x = 2$

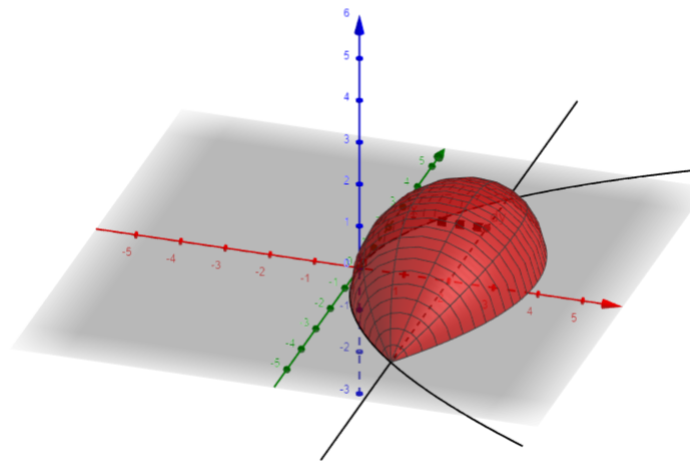
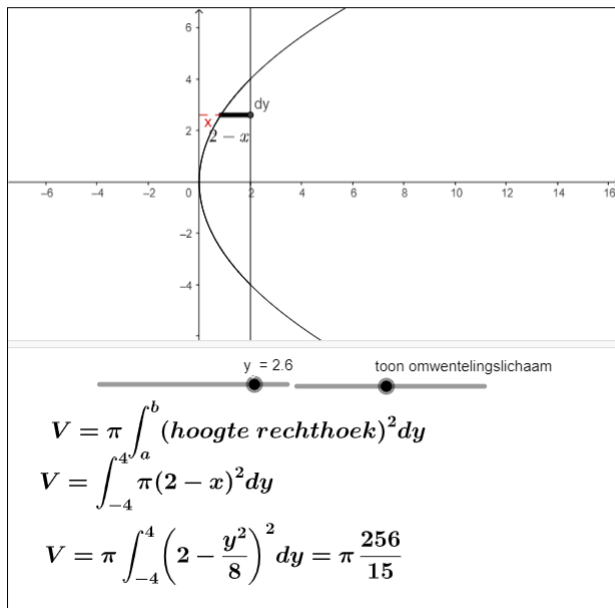
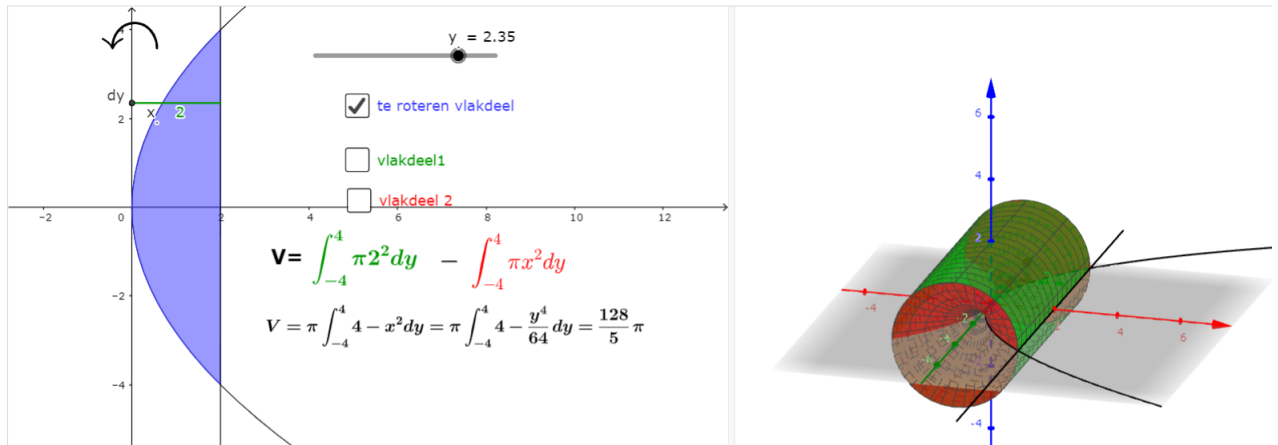


Figure 7: <https://www.geogebra.org/m/b5DqDWuM>

3. Bepaal het volume dat bekomen wordt door het vlakdeel begrensd door  $y^2 = 8x$  en  $x = 2$  te wentelen om de y-as



4. Bepaal het volume dat bekomen wordt door het vlakdeel begrensd door  $y = 4x - x^2$  en de x-as te wentelen rond de rechte  $y=6$

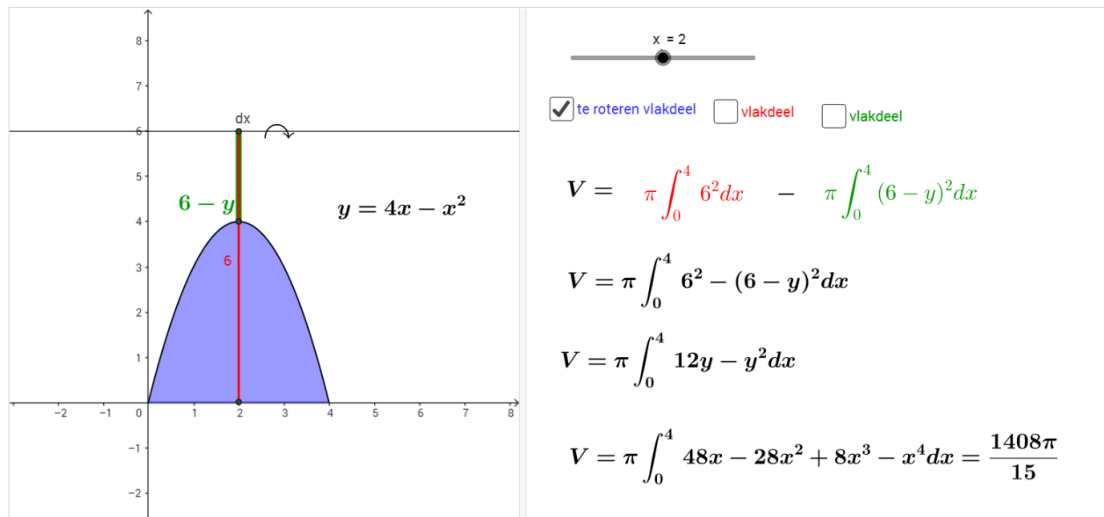


Figure 8: <https://www.geogebra.org/m/b5DqDWuM>

## 4 Differentiaalvergelijkingen

### 4.1 Scheiding der veranderlijken

**Oplossen DV: methode scheiding der veranderlijken**

<p><b>Voorbeeld 1:</b></p> $y' = \frac{x}{y-1}$ <p>Opl: <math>\frac{dy}{dx} = \frac{x}{y-1}</math></p> $\Leftrightarrow (y-1)dy = xdx$ $\Leftrightarrow \int y-1dy = \int xdx$ $\Leftrightarrow \frac{y^2}{2} - y = \frac{x^2}{2} + C$ <p>Dit wordt een impliciete oplossing genoemd</p>	<p><b>Voorbeeld 2:</b></p> $y' = xy + x$ <p>opt: <math>\frac{dy}{dx} = (y+1)x</math></p> $\Leftrightarrow \frac{dy}{y+1} = xdx$ $\Leftrightarrow \int \frac{dy}{y+1} = \int xdx$	$\Leftrightarrow \ln y+1  = \frac{x^2}{2} + C$ $\Leftrightarrow  y+1  = e^{\frac{x^2}{2} + C} = e^{\frac{x^2}{2}} \cdot e^C = C e^{\frac{x^2}{2}}$ $\Leftrightarrow y+1 = C \cdot e^{\frac{x^2}{2}}$ $\Leftrightarrow y = -1 + C \cdot e^{\frac{x^2}{2}}$ <p>Dit wordt een expliciete oplossing genoemd.</p>
------------------------------------------------------------------------------------------------------------------------------------------------------------------------------------------------------------------------------------------------------------------------------------------	----------------------------------------------------------------------------------------------------------------------------------------------------------------------------------	--------------------------------------------------------------------------------------------------------------------------------------------------------------------------------------------------------------------------------------------------------------------------------------------------------------

18 / 18

Figure 9: <https://www.geogebra.org/m/rymraghn>

## 4.2 Groeimodellen

$k = 0.7$

$y_0 = 2$

Toon raakveld

**Oplossing:**  
 $y(t) = y_0 \cdot e^{kt}$   
 $y(t) = 2 \cdot e^{0.7t}$

### Exponentiële groei

$DV : y' = ky, k \in \mathbb{R}$

$$\frac{dy}{dx} = ky \Leftrightarrow dy = ky dx$$

$$\Leftrightarrow \frac{dy}{y} = k dx$$

$$\Leftrightarrow \int \frac{dy}{y} = \int k dx$$

$$\Leftrightarrow \ln |y| = kx + c$$

$$\Leftrightarrow e^{\ln |y|} = e^{kx+c}$$

$$\Leftrightarrow |y| = e^{kx} \cdot e^c$$

$$\Leftrightarrow y = \pm e^c e^{kx} \quad y(0) = ce^{k \cdot 0} = c \cdot 1 = c \Leftrightarrow y_0 = c$$

$$\Leftrightarrow y = y_0 \cdot e^{kx}$$

$M = 200$

$k = 0.038$

$y_0 = 60$

Toon HA

Toon raakveld

Toon afleiding oplossing

### Beperkte groei:

$DV : y' = k \cdot (M - y) \quad \text{met } k \in \mathbb{R}_0^+$

$$\frac{dy}{dx} = k(M - y)$$

$$\frac{dy}{M - y} = k dx$$

$$\int \frac{dy}{M - y} = \int k dx$$

$$-\ln(M - y) = kx + c$$

$$\ln(M - y) = -kx - c$$

$$M - y = e^{-kx - c}$$

$$y = M - e^{-c} \cdot e^{-kx}$$

$$y_0 = M - e^{-c}$$

$$e^{-c} = M - y_0$$

$$y = M - (M - y_0) \cdot e^{-kx}$$

**Oplossing:**  
 $y(t) = M - (M - y_0)e^{-kt}$   
 $y(t) = 200 - (140) \cdot e^{-0.038t}$

$\frac{M}{2} = \frac{1000}{2} = 500$

$t = \frac{\ln c}{kM} = \frac{\ln(9)}{0.0001 \cdot 1000} = 21.9722$

### Logistische groei:

$DV : y' = k \cdot y \cdot (M - y)$

$y_0 = 100$

$k = 0.0001 \quad \text{met } y_0 = \frac{M}{1+c}$

$M = 1000$

$$y(t) = \frac{M}{1 + ce^{-kMt}} = \frac{1000}{1 + 9e^{-0.0001 \cdot 1000t}}$$

Toon HA

toon bp

Toon raakveld

Figure 10: <https://www.geogebra.org/m/f6tcwvzw>



## 5 Toepassingen uit de economie

### 5.1 consumenten en producentensurplus

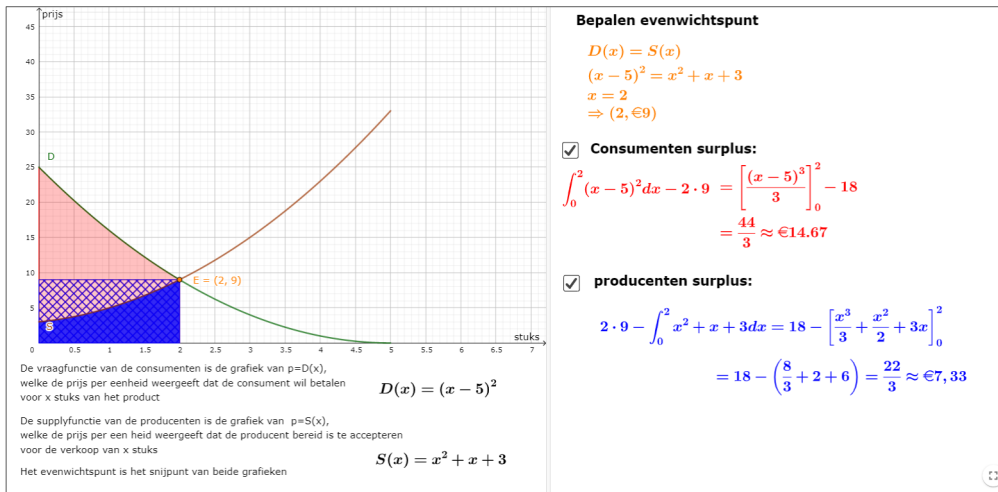


Figure 11: <https://www.geogebra.org/m/d8kbjdv5>

## 6 Toepassingen uit de wetenschappen

### 6.1 positie-snelheid-versnelling

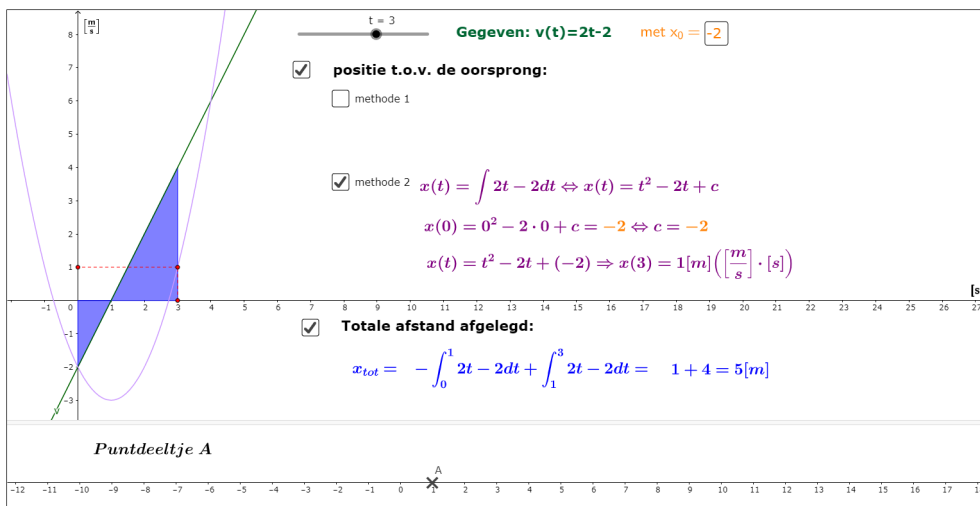


Figure 12: <https://www.geogebra.org/m/vxxaKKUh>

### 6.2 Chemische reactie

De tijd  $T$  nodig om een hoeveelheid  $x_0$  (moleculen) te creëren van vertrekkende van 2 ingrediënten met beginhoeveelheid  $a$  en  $b$  ( $a > b > 0$ ) kan berekend worden via

$$T = \int_0^{x_0} \frac{k}{(x - a)(x - b)} dx$$

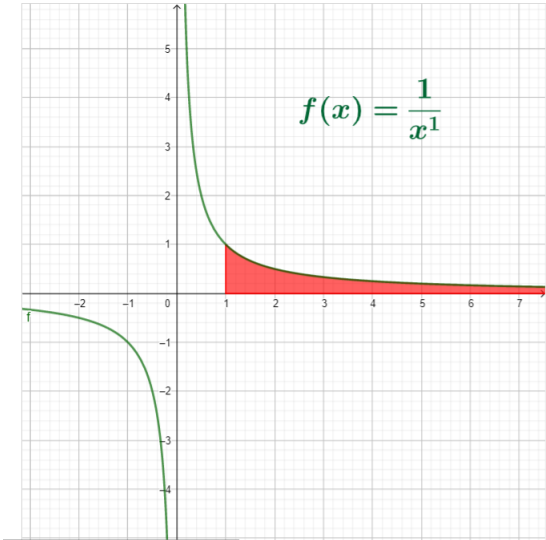
met  $k$  een positieve constante

1. Bepaal de tijd  $T$  nodig om een hoeveelheid  $x = x_0$  te produceren
2. Waar zal  $T$  naar toe gaan als  $x_0 \rightarrow a$

## 7 Oneigenlijke integralen

Type 1

Een integraal is een oneigenlijke integraal type 1 als het integratie-interval niet begrensd is.



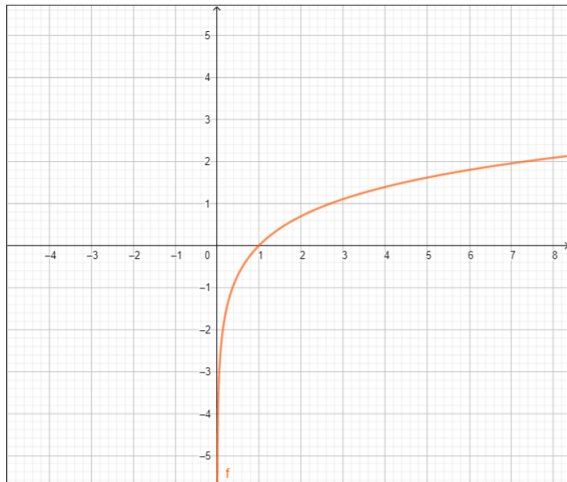
$p = 1$

$$\begin{aligned} \int_1^{\infty} \frac{1}{x} dx &= \lim_{b \rightarrow +\infty} \int_1^b \frac{1}{x} dx \\ &= \lim_{b \rightarrow +\infty} [\ln(|x|)]_1^b \\ &= \lim_{b \rightarrow +\infty} [(\ln(|b|)) - (0)] \\ &= \lim_{b \rightarrow +\infty} \ln(|b|) \\ &= \infty \end{aligned}$$

**divergent**

Type 2

Een integraal is een oneigenlijke integraal type 2 als de functie niet continu is in het integratie-interval



Voorbeelden :

$f(x) = \ln(x)$

$$\begin{aligned} \int_0^1 \ln(x) dx &= \lim_{a \rightarrow 0^+} \int_a^1 \ln(x) dx \\ &= \lim_{a \rightarrow 0^+} [x \ln(x) - x]_a^1 \\ &= \lim_{a \rightarrow 0^+} (-1) - (a \ln(a) - a) = -1 \\ \lim_{x \rightarrow 0} x \ln(x) &= \lim_{x \rightarrow 0} \frac{\ln(x)}{\frac{1}{x}} \stackrel{H}{=} \lim_{x \rightarrow 0} \frac{\frac{1}{x}}{-\frac{1}{x^2}} = \lim_{x \rightarrow 0} -x = 0 \end{aligned}$$

**Convergent**

Figure 13: <https://www.geogebra.org/m/RsE37tum>

## 8 Oefeningen

### 8.1 Oppervlakteberekening

1. Bereken de oppervlakte tussen de grafiek van de gegeven functie en de x-as

(a)  $f(x) = x^2 + 3x + 2$  met  $x \in [0, 2]$

(b)  $g(x) = \sin(2x) + 2 \cos(x)$  met  $x \in [0, 2\pi]$  (antw.  $A=8$ )

(c)  $f(x) = x \cdot \sqrt{4 - x^2}$

2. Bereken de oppervlakte tussen de grafieken van de gegeven functies (en eventueel de opgegeven grenzen):

(a)  $y^2 = x$  en  $x - y = 2$

- (b)  $y^2 = 4x$  en  $y = 2x - 4$   
 (c)  $y = -x$  en  $y = \sqrt{16 - 6x}$  en  $y = 0$   
 (d)  $y = \cos(x)$  en  $y = \cos^2(x)$  en  $x = 0$  en  $x = \pi$  (antw A=2)  
 (e)  $y = x - 1$  en  $y^2 = 2x + 6$  (antw. A=18)  
 (f)  $f(x) = -x^2 + 2x + 3$  en  $g(x) = (3 - x)e^x$   
 (g) 10 extra oefeningen op de website:

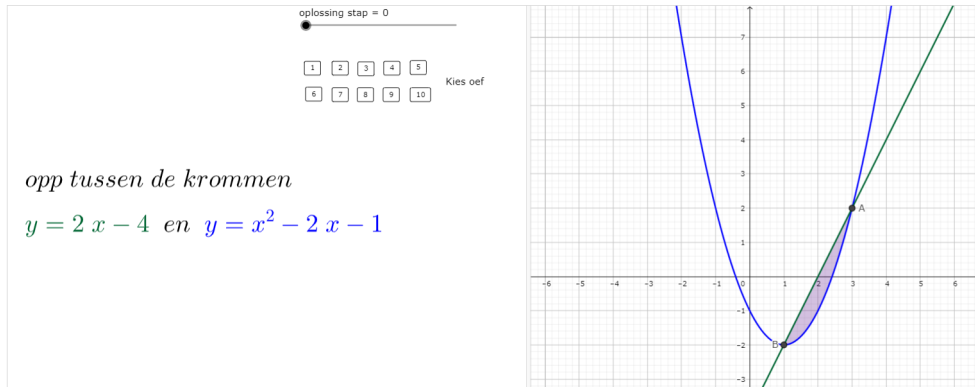


Figure 14: <https://www.geogebra.org/m/QXvv6bTK>

- Bereken de oppervlakte van het gebied, begrensd door de kromme  $y = x^3 - 3x^2 + 5$ , de X-as en de verticale lijnen door het maximum en het minimum van de gegeven functie. Maak een duidelijke tekening! (antw. A=6)
- Bereken de opp van het gebied begrensd door de kromme  $y = x^{1/3}$  en de component van  $y = \tan(\pi x/4)$  die de oorsprong bevat. (antw.  $A = \frac{1}{2\pi}(3\pi - 8\ln(2))$ )
- Bepaal de vergelijking van de rechte L door de oorsprong die het gebied tussen de grafiek van de gegeven functie en de X-as in twee gebieden verdeelt met dezelfde oppervlakte.
  - $y = -x^2 + 6x$  (antw.  $y = (-3\sqrt[3]{4} + 6)x$ )
  - $y = 2x - x^2$
- Bereken de oppervlakte tussen de grafieken van  $y = k \sin(kx)$  en  $y = 2k - k \sin(kx)$  over het interval  $[0, \frac{\pi}{k}]$

## 8.2 Lengteberekening

- Bereken de lengte van de gegeven krommen tussen de aangegeven waarden:
  - $y = x^{\frac{3}{2}}$  tussen  $x = 0$  en  $x = 5$
  - $24xy = x^4 + 48$  tussen  $x = 2$  en  $x = 4$
  - $x = 3y^{\frac{3}{2}}$  tussen  $y = 0$  en  $y = 4$
  - $y = \ln(1 - x^2)$  en  $x = \frac{1}{4}$  en  $x = \frac{3}{4}$
  - $y = \frac{1}{2}a(e^{\frac{x}{a}} + e^{-\frac{x}{a}})$  tussen  $x = 0$  en  $x = a$
- Bepaal m.b.v. een GZRM de lengte van de kromme  $y = \sqrt{4x - x^2}$  van  $x = 0$  tot en met  $x = 4$ . Hoe had je deze lengte ook nog kunnen bepalen?

### 8.3 Inhoudsberekening

1. Bereken de inhoud van een bol met straal  $r$
2. Bereken de inhoud van kegel met straal  $r$  en hoogte  $h$
3. Bereken de inhoud van een torus
4. Bepaal het volume bekomen door het vlakdeel begrensd door  $y = 4x^2$ ,  $x = 0$ ,  $y = 16$  te wentelen om de  $y$ -as (Antw.  $32\pi$ )
5. Het punt  $P$  is het punt waar de grafiek van  $y = x^3 - 3x$  een minimum vertoont. Door rotatie van het vlakdeel begrensd door de grafiek en de raaklijn in dit minimum rond deze raaklijn ontstaat een ajuinvormig lichaam. Bereken de inhoud ervan. (opl.  $\text{Inh} = \frac{729\pi}{35}$ )
6. Bepaal het volume bekomen door het vlakdeel begrensd door  $y = x$  en  $y = \sqrt{x}$  te wentelen rond de rechte  $y = -1$  (opl:  $\frac{\pi}{2}$ )
7. Bepaal het volume bekomen door het vlakdeel begrensd door  $y = x^2$ ,  $y = 4x - x^2$  te wentelen rond  $y = 6$  (Antw.  $\frac{64\pi}{3}$ )
8. Bereken de inhoud bekomen door het vlakdeel, begrensd door de grafiek van  $f(x) = b \sin\left(\frac{\pi x}{a}\right)$ ,  $x = 0$  en  $x = a$  te wentelen om de  $x$ -as. (opl.  $V = \frac{\pi ab^2}{2}$ )
9. Zij  $R$  het gebied begrens door de krommen  $y = 0$  en  $y = x^2 + x$  en tussen  $x = 0$  en  $x = 1$ . Bepaal de inhoud van het omwentelingslichaam bekomen door  $R$  te wentelen rond  $y = -1$  (opl.  $\frac{27\pi}{10}$ )

### 8.4 Differentiaalvergelijkingen

1. Bepaal de algemene oplossing van de volgende differentiaalvergelijkingen
  - (a)  $y - xy' = 0$
  - (b)  $y\sqrt{1-x^2} + xy = 0$
  - (c)  $5x \frac{dy}{dx} = y^2 \ln x$  met  $y(1) = 2$
  - (d)  $\frac{dy}{dx} = \frac{e^{-\sqrt{x}}}{y^2 \sqrt{x}}$  met  $y(0) = 3$
  - (e)  $y' = \frac{y^2}{x^2 + 1}$
  - (f)  $\sin x dy - \cos x dx = 0$
  - (g)  $y' = y^2$
2. Leid de algemene oplossing af voor een logistisch groeiproces

### 8.5 Toepassingen uit de economie

1. Bereken het consumer surplus en het producer surplus bij het evenwichtspunt
  - (a)  $D(x) = -\frac{5}{6}x + 9$  en  $S(x) = \frac{1}{2}x + 1$
  - (b)  $D(x) = (x - 4)^2$  en  $S(x) = x^2 + 2x + 6$
  - (c)  $D(x) = (x - 6)^2$  en  $S(x) = x^2$
  - (d)  $D(x) = (x - 3)^2$  en  $S(x) = x^2 + 2x + 1$
2. De marginale kost voor het produceren van goedkope digitale fotoestellen wordt (bij benadering) gegeven door  $K'(q) = 0.09q^2 - 2q + 50$  waarbij  $q$  het aantal geproduceerde toestellen per uur voorstelt
  - (a) Bereken de kostenfunctie  $K(q)$  als het bedrijf 1000 euro nodig heeft om de productie te starten
  - (b) Bereken de extra kosten bij een productieverhoging van 20 naar 30 toestellen per uur door gebruik te maken van integralen.

3. Bij de firma Taktik worden projectieklokken geproduceerd. De marginale kost wordt benaderd door  $K'(q) = 3q^2 - 30q + 73$  en de marginale winst door  $W'(q) = -3q^2 + 30q - 48$  waarbij  $q$  het aantal klokken voorstelt dat per uur geproduceerd wordt. De vaste kosten bedragen 15 euro.
- Bereken de kostenfunctie  $K(q)$
  - Hoeveel kost 1 projectieklok in de winkel?
  - Bereken de winstfunctie  $W(q)$
  - Hoeveel klokken per uur moet de firma produceren om een maximale winst te hebben? Hoeveel bedraagt die maximale winst?

## 8.6 toepassingen uit de wetenschappen

- Een puntdeeltje beweegt zich op een rechte lijn met een snelheid van  $v(t) = 3t^2 - 24t + 36 \left[ \frac{m}{s} \right]$ , met  $0 \leq t \leq 6$ 
  - Bepaal de positie na 6 [s]. (A.  $0[m]$ )
  - Bepaal de totaal afgelegde weg na 6 [s]. (A.  $112[m]$ )
- Een puntdeeltje bevindt zich op  $t = 0$  in de oorsprong en beweegt zich met een snelheid van  $v(t) = 2t - 2 \left[ \frac{m}{s} \right]$ 
  - Bepaal de positie na 5 [s].
  - Bepaal de totaal afgelegde weg na 5 [s].
- Een voorwerp beweegt zich langs een rechte lijn met snelheidsfunctie  $v(t) = 2 - 3t + t^2 \left[ \frac{m}{s} \right]$ . Op het tijdstip  $t = 0$  bevindt zich het voorwerp 2 m rechts van de oorsprong. Bepaal de positie na 4 [s].
- Een bal rolt over een weg met een beginsnelheid van  $8 \left[ \frac{m}{s} \right]$ . Omwille van de wrijving neemt de snelheid af met  $a(t) = -2 \left[ \frac{m}{s^2} \right]$ . Hoe ver zal de bol rollen? (Antw.  $16 [m]$ )
- Een deeltje beweegt langs de x-as met versnellingsfunctie  $a(t) = 2t - 2 \left[ \frac{m}{s^2} \right]$ . Op het begintijdstip bevindt het deeltje zich in  $x = 5[m]$ . Een seconde later beweegt het deeltje met een snelheid van 4 meter per seconde naar links.
  - Bepaal de snelheidsfunctie  $v(t)$  en de afstandsfunctie  $x(t)$ .
  - Waar bevindt het deeltje zich na 3 [s]
- De snelheid van een auto in functie van de tijd is gegeven door de volgende vergelijking:  $v(t) = t^2 \left[ \frac{m}{s} \right]$ 
  - Bepaal de verplaatsing tussen 0[s] en 3[s]
  - Bepaal de gemiddelde snelheid in dit interval om dezelfde verplaatsing te bekomen en het tijdstip waarop deze snelheid wordt behaald.
- De snelheid waarmee het bloed stroomt doorheen een bloedvat met straat  $R$  en lengte  $l$  op een afstand  $r$  van de centrale as wordt gegeven door

$$v(r) = \frac{P}{4\eta l} (R^2 - r^2)$$

met  $P$  het drukverschil tussen het einde en het begin van het bloedvat en  $\eta$  de viscositeit van bloed.

bepaal de gemiddelde snelheid over het interval  $0 \leq r \leq R$  (A.  $v_m = \frac{PR^2}{6\eta l}$ )

## 8.7 Oneigenlijke integralen

1. Bereken de volgende oneigenlijke integralen:

(a)  $\int_0^{+\infty} \frac{x}{x^4+1} dx$

(b)  $\int_0^{+\infty} \frac{\ln(x)}{x^2} dx$

(c)  $\int_0^{+\infty} \frac{e^{-\sqrt{x}}}{\sqrt{x}} dx$

(d)  $\int_0^{+\infty} e^x dx$

(e)  $\int_{-\infty}^{+\infty} x e^{-x^2} dx$

(f)  $\int_{-\infty}^{-1} \frac{dx}{x^2+4x+5}$

2. Bereken de volgende oneigenlijke integralen

(a)  $\int_0^{+\pi} \frac{1}{\cos^2(x)} dx$

(b)  $\int_0^1 \frac{1}{\sqrt{x}} dx$

(c)  $\int_{-1}^1 \frac{1}{x^2} dx$

(d)  $\int_0^3 \frac{1}{\sqrt{3-x}} dx$

(e)  $\int_0^{+\infty} \frac{dx}{(x-2)^3}$

3. De snelheid waarmee een griepvirus zich verspreidt kan gemodelleerd worden door volgend functievoorschrift:

$$r(t) = 1000te^{-0.5t}$$

Bepaal het totaal aantal personen dat ziek geworden is.