


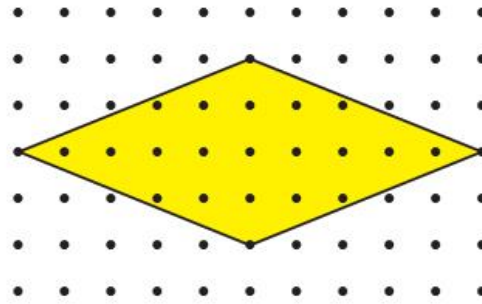
1.



Yukarıdaki birim karelere ayrılmış zeminde verilen eşkenar dörtgenin alanı kaç birimkaredir?

- A) 20 B) 22 C) 24 D) 26

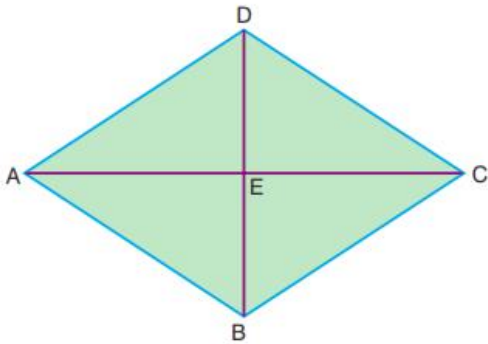
2.



Yukarıdaki birim karelere ayrılmış zeminde verilen eşkenar dörtgenin alanı kaç birimkaredir?

- A) 20 B) 22 C) 24 D) 26

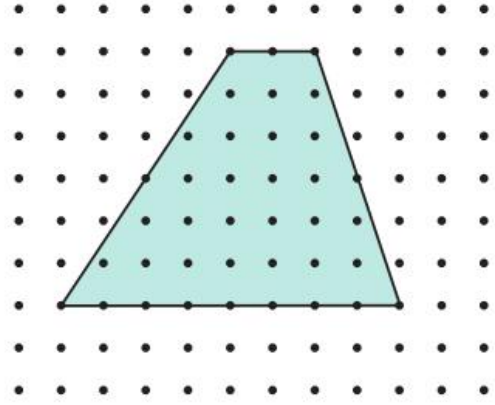
3.



Yukarıdaki şekilde verilen ABCD eşkenar dörtgeninde $|AC| = 20$ cm ve $|DE| = 8$ cm olduğuna göre, ABCD eşkenar dörtgeninin alanı kaç cm^2 dir?

- A) 80 B) 120 C) 140 D) 160

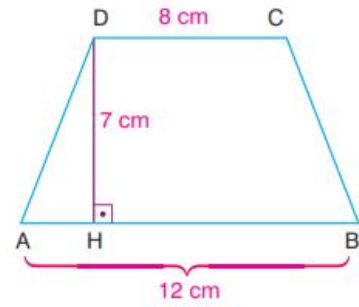
4.



Yukarıdaki birim karelere ayrılmış zemine çizilmiş olan yamuğun alanı kaç birim karedir?

- A) 60 B) 40 C) 30 D) 20

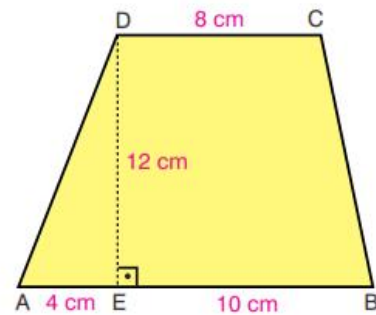
5.



Yukarıdaki şekilde verilen ABCD yamuğunda $[DH] \perp [AB]$, $|DC| = 8$ cm, $|AB| = 12$ cm ve $|DH| = 7$ cm olduğuna göre, $A(ABCD)$ kaç cm^2 dir?

- A) 50 B) 60 C) 70 D) 80

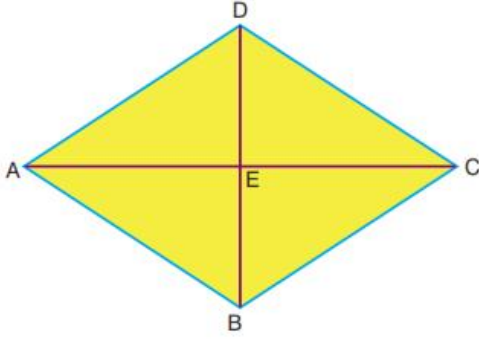
6.



Yukarıdaki şekilde verilen ABCD yamuğunda $[DE] \perp [AB]$, $|DC| = 8$ cm, $|AE| = 4$ cm, $|EB| = 10$ cm ve $|DE| = 12$ cm olduğuna göre, $A(ABCD)$ kaç cm^2 dir?

- A) 124 B) 128 C) 132 D) 136


7.



Yukarıdaki şekilde verilen ABCD eşkenar dörtgeninde $|AE| = 12$ cm ve $|EB| = 9$ cm olduğuna göre, ABCD eşkenar dörtgeninin alanı kaç cm^2 dir?

- A) 204 B) 208 C) 212 D) 216

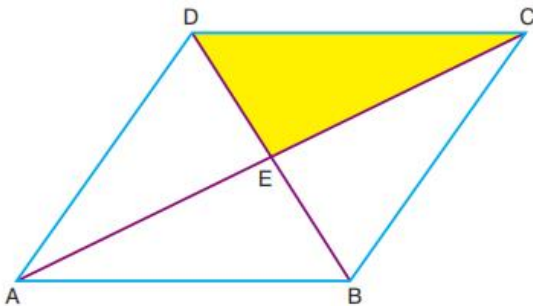
8.



Yukarıdaki şekilde verilen karesel zemine çizilmiş olan taralı bölgenin alanı kaç birimkaredir?

- A) 27 B) 28 C) 29 D) 30

9.

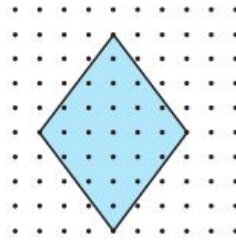


Yukarıdaki şekilde ABCD eşkenar dörtgen, $|AC| = 16$ cm ve $|BD| = 12$ cm olduğuna göre, DEC üçgeninin alanı kaç cm^2 dir?

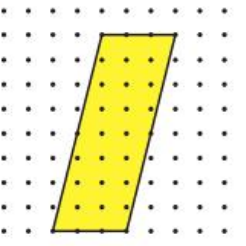
- A) 16 B) 24 C) 32 D) 40

10. Aşağıda verilen taralı bölgelerden hangisinin alanı diğerlerinden farklıdır?

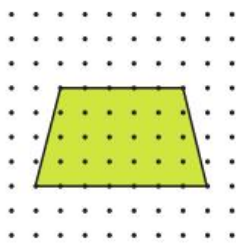
A)



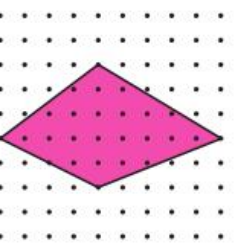
B)



C)

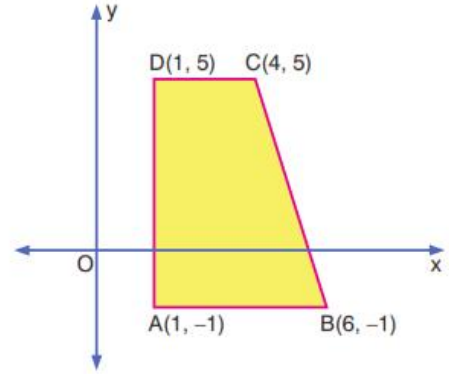


D)



11.

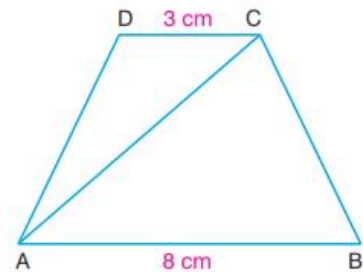
www.dersimis.com



Yukarıdaki koordinat düzleminde verilen yamuğunun alanı kaç birimkaredir?

- A) 18 B) 20 C) 22 D) 24

12.



Şekildeki ABCD yamuğunda, $|AB| = 8$ cm, $|DC| = 3$ cm dir.

$A(\widehat{ABC}) = 24$ cm^2 olduğuna göre, $A(ABCD)$ kaç cm^2 dir?

- A) 33 B) 36 C) 39 D) 44