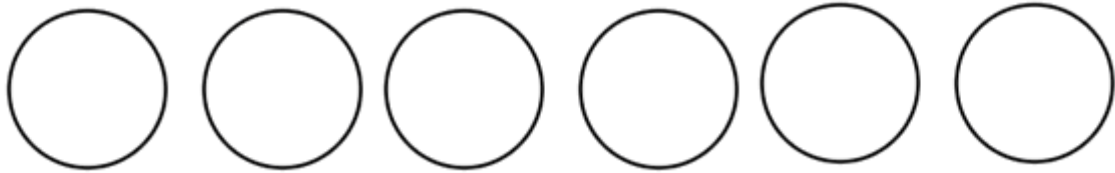


以均分的概念理解分數除法（整數÷整數）：工作紙一

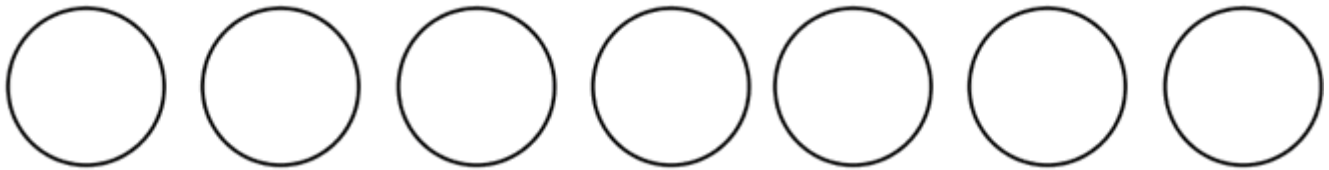
姓名：_____（ ） 班別：_____ 日期：_____

1. 薄餅 6 個，均分給 3 人，每人可分得薄餅多少個？



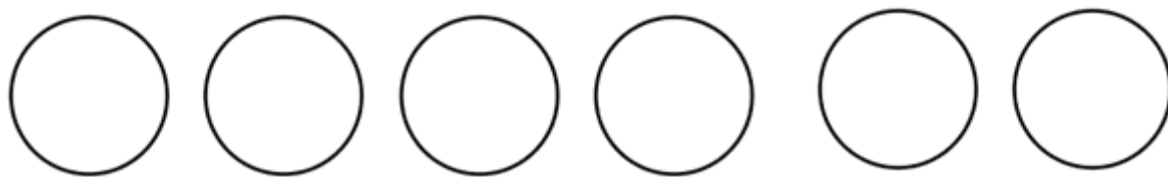
每人分得薄餅：

2. 薄餅 7 個，均分給 3 人，每人可分得薄餅多少個？



每人分得薄餅：

3. 薄餅 6 個，均分給 4 人，每人可分得薄餅多少個？

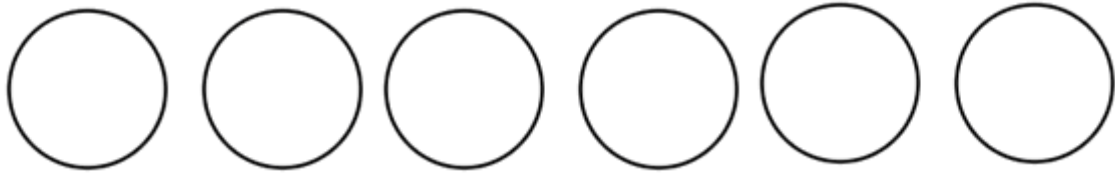


每人分得薄餅：

以均分的概念理解分數除法（整數÷整數）：工作紙一（答案）

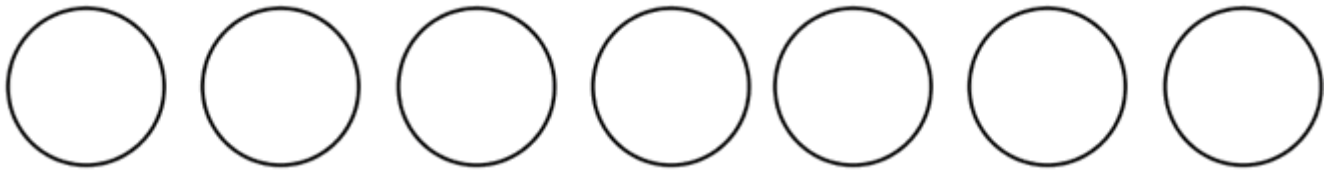
姓名：_____（ ） 班別：_____ 日期：_____

1. 薄餅 6 個，均分給 3 人，每人可分得薄餅多少個？



$$\begin{aligned} \text{每人分得薄餅：} & \quad 6 \div 3 \\ & = 2 \text{ (個)} \end{aligned}$$

2. 薄餅 7 個，均分給 3 人，每人可分得薄餅多少個？



$$\begin{aligned} \text{每人分得薄餅：} & \quad 7 \div 3 \\ & = 2\frac{1}{3} \text{ (個)} \end{aligned}$$

3. 薄餅 6 個，均分給 4 人，每人可分得薄餅多少個？



每人分得薄餅： $6 \div 4$
 $= 1\frac{1}{2}$ (個)