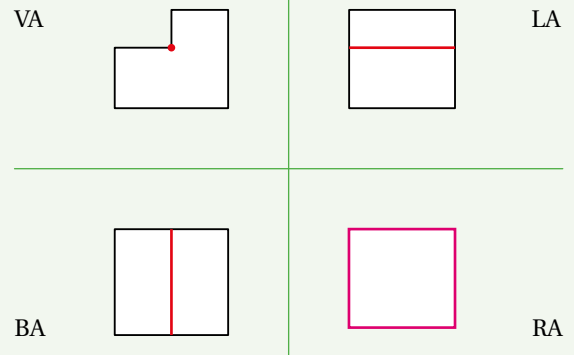
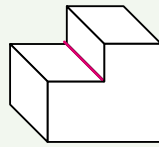
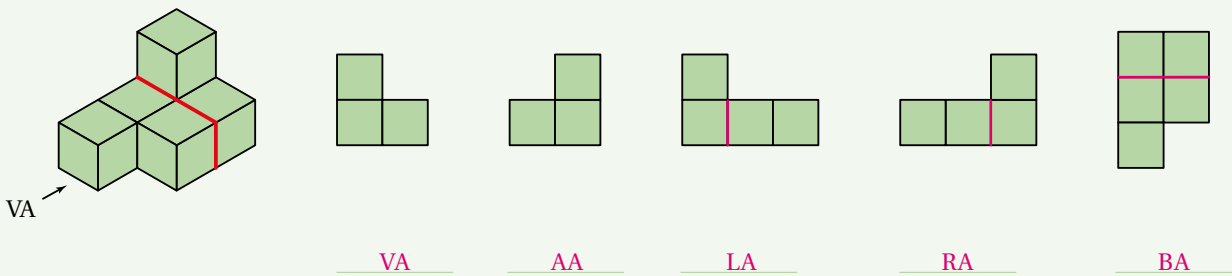


9 Duid op de perspectieftekening het lijnstuk aan dat is weergegeven op de aanzichten. Vul het ontbrekende aanzicht aan.



10 a Schrijf onder elke tekening de naam van het aanzicht.

b Teken de lijn in rode kleur, zoals gegeven in het perspectief, op de juiste plaats bij de aanzichten.



11 Schets het cavalièreperspectief en teken het rechterzijaanzicht.

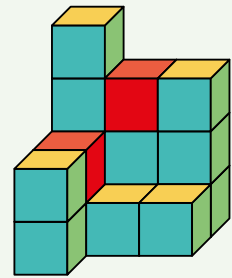
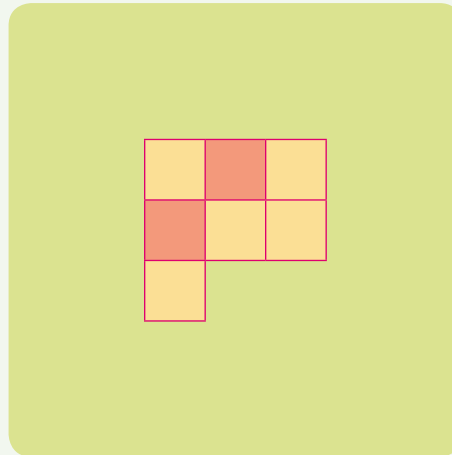
	VA	BA	LA	FIGUUR IN CAVALIÈREPERSPECTIEF	RA
a					
b					

12

- a Teken het bovenaanzicht van dit kubussenbouwsel.
- b Welke aanzichten zijn anders als je de twee rode kubusjes wegneemt?

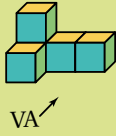
Het linkerzijaanzicht, het voor-aanzicht, het rechterzijaanzicht en het achteraanzicht.

Bij het bovenaanzicht veranderen twee vierkanten van kleur.



*13

- In volgende perspectieftekeningen zijn identieke kubussen getekend. Tel het aantal dat telkens in de voorstelling aanwezig is. Ga ervan uit dat elke kubus met minstens één vlak aan een andere kleeft. Bij welke opgave(n) zijn er meerdere oplossingen?

TEKENING	MINIMUMAANTAL KUBUSSEN	ANDERE OPLOSSINGEN
	5	—
	5	—
	8	9
	17	bv. 18, 19, 20, 21, 22
	16	bv. 17, 18, 19, 20, 21
	18	bv. 19, 20, 21, 22, 23