

1. Das Notensystem hat ____ L..... und ____ Zw..... /4


Nummeriere sie:



/4

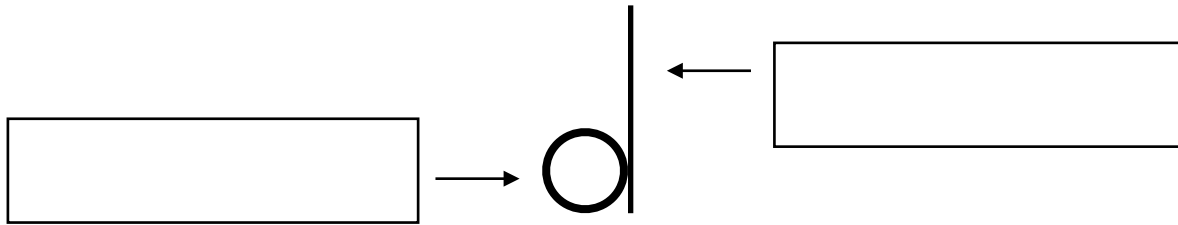
2. Um sich im Notensystem zu orientieren schreibt man an den Beginn jedes Notensystems einen N..... (man nennt ihn auch, weil er auf der Linie beginnt, auf der der Ton ____ liegt.) /3

Zeichne 6 von diesen besonderen Zeichen:



/3

3. Eine Note besteht aus 2 Grundelementen:



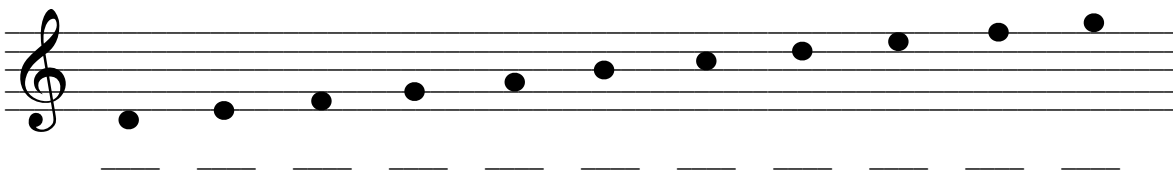
/2

4. Es gibt 7 Stammtöne, sie heißen: ____ ____ ____ ____ ____ ____ ____

(Tipp: Man kann sie sich gut merken, weil sie etwas Ähnlichkeit mit dem Alphabet haben.)

/7

Trage die Namen der Töne unter den Noten ein.



Trage die Notenhäse oben ein. Achtung! Ab der ____ Linie ändert sich die Richtung und Seite des Notenhalses.

/12

Name: _____ **Musik-Test zur Notenlehre** Datum: _____

5. Auf der Klaviatur gibt es _____ und _____ Tasten, die /2
besonders angeordnet sind. **Beschrifte die weißen Tasten mit den Notennamen:**



(Tipp: links von den zwei schwarzen Tasten liegt der Ton C)

/6



6. Es gibt 2 Arten von Versetzungszeichen:

Ein **#** heißt in der Musik _____. Steht ein # vor einer Note, so wird der Stammtton _____ und erhält die Endung -_____.

Ein **b** heißt in der Musik _____. Steht ein b vor einer Note, so wird der Stammtton _____ und erhält die Endung -_____.

/6

7. Rätsel: Schreibe die Notennamen unter die Noten und du erhältst ein Lösungswort.



/2

8. **Erfinde zwei eigene Wörter**, die du mit den Notennamen und Noten schreiben kannst.




/4

Note: _____ Datum: _____ Punkte gesamt: /53

Unterschrift Eltern: _____ Unterschrift Lehrer/in: _____

1. Das Notensystem hat 5 **Linien**..... und 4 **Zwischenräume**..... /4

Nummeriere sie:



/4

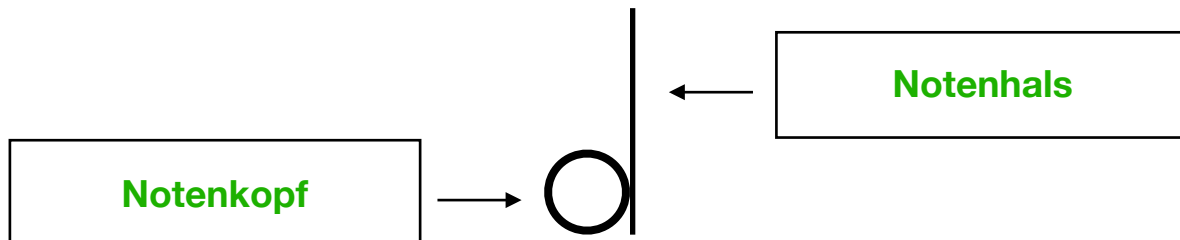
2. Um sich im Notensystem zu orientieren schreibt man an den Beginn jedes Notensystems einen **Notenschlüssel**..... (man nennt ihn auch **G-schlüssel**....., weil er auf der Linie beginnt, auf der der Ton g liegt.) /3

Zeichne 6 von diesen besonderen Zeichen:



/3

3. Eine Note besteht aus 2 Grundelementen:




/2

4. Es gibt 7 Stammtöne, sie heißen: c d e f g a h
(Tipp: Man kann sie sich gut merken, weil sie etwas Ähnlichkeit mit dem Alphabet haben.)

/7

Trage die Namen der Töne unter den Noten ein.



Trage die Notenhäse oben ein. Achtung! Ab der 3. Linie ändert sich die Richtung und Seite des Notenhalses.

/12

Name: _____ **Musik-Test zur Notenlehre** Datum: _____

5. Auf der Klaviatur gibt es _____ **schwarze** _____ und _____ **weiße** _____ Tasten, die /2
besonders angeordnet sind. **Beschrifte die weißen Tasten mit den Notennamen:**



(Tipp: links von den zwei schwarzen Tasten liegt der Ton C)

/6



6. Es gibt 2 Arten von Versetzungszeichen:

Ein **#** heißt in der Musik **Kreuz**. Steht ein # vor einer Note, so wird der Stammtton **höher** und erhält die Endung **-is**.

Ein **b** heißt in der Musik **Be**. Steht ein b vor einer Note, so wird der Stammtton **tiefer** und erhält die Endung **-es**.


/6

7. Rätsel: Schreibe die Notennamen unter die Noten und du erhältst ein Lösungswort.



/2

8. **Erfinde zwei eigene Wörter**, die du mit den Notennamen und Noten schreiben kannst.



/4

Note: _____ Datum: _____ Punkte gesamt: /53

Unterschrift Eltern: _____ Unterschrift Lehrer/in: _____