

一年級_____班

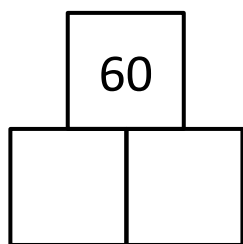
姓名：_____

日期：_____

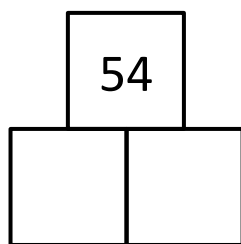
練習：

在下層方格內填上數字，使兩數之和和上層方格內的數字相同。

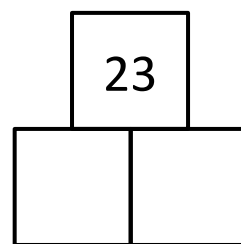
1)



2)




3)



加法小比賽

在下層方格內填上數字，使最上層方格內的答案是 60。



一年級_____班

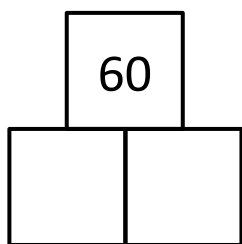
姓名：_____

日期：_____

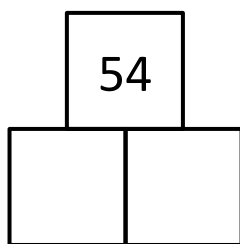
練習：

在下層方格內填上不同的數字，使兩數之和和上層方格內的數字相同。

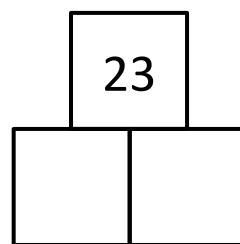
1)



2)



3)



加法小神童

在下層方格內填上不同的數字，使最上層方格內的答案是_____（自由填上一個兩位數），並與組員交換完成，最快的人為勝。

