


製作一個面積是 24 平方厘米的平行四邊形。

<https://www.geogebra.org/m/evamdqz>



♥在以下的方格紙內用直尺繪畫一個平行四邊形，它的面積為 24cm^2 。




♥列式計算你繪畫的平行四邊形的面積：


平行四邊形的面積是：

製作一個面積是 **24** 平方厘米的平行四邊形。

<https://www.geogebra.org/m/evamdqz>



♥在以下的方格紙內用直尺繪畫一個平行四邊形，它的面積為 24cm^2 。



♥列式計算你繪畫的平行四邊形的面積：

平行四邊形的面積是：
