

1. Construcción de cuadrado sabiendo que la suma de la diagonal y un lado es 7,5 cm




2. Construcción de rectángulo conocido un lado y la diagonal





3. Construcción de un rombo conocido el lado y un ángulo

ángulo 45°



4. Construcción de un rombo conocido el lado y una diagonal





5. Construcción de un rombo conocidas las diagonales


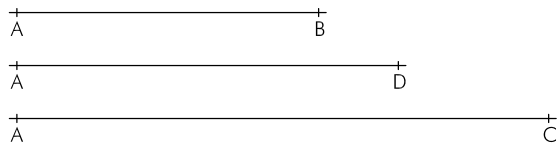


6. Construcción de un romboide conocidos los lados y un ángulo


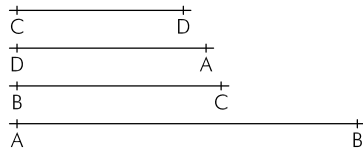
ángulo 30°



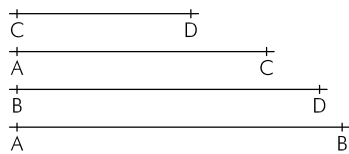
7. Construcción de un romboide conocidos los lados y una diagonal



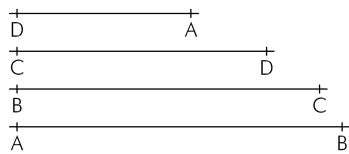
8. Construcción de un trapezio conocidos sus cuatro lados




9. Construcción de un trapezio conocidas sus bases y sus diagonales



10. Construcción de un trapezoide conocidos sus cuatro lados y un ángulo



ángulo BAD 60°



11. Construcción de un trapezoide conocidos sus cuatro lados y una diagonal

